



第七单元 长方形和正方形





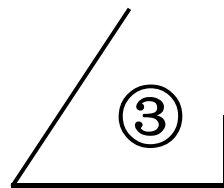
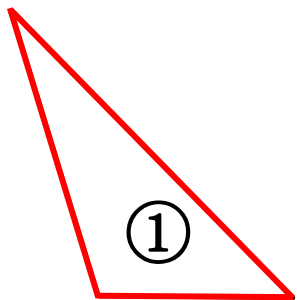
周 长

杭州采荷一小 308班

湖州长兴县实验小学 卢颖

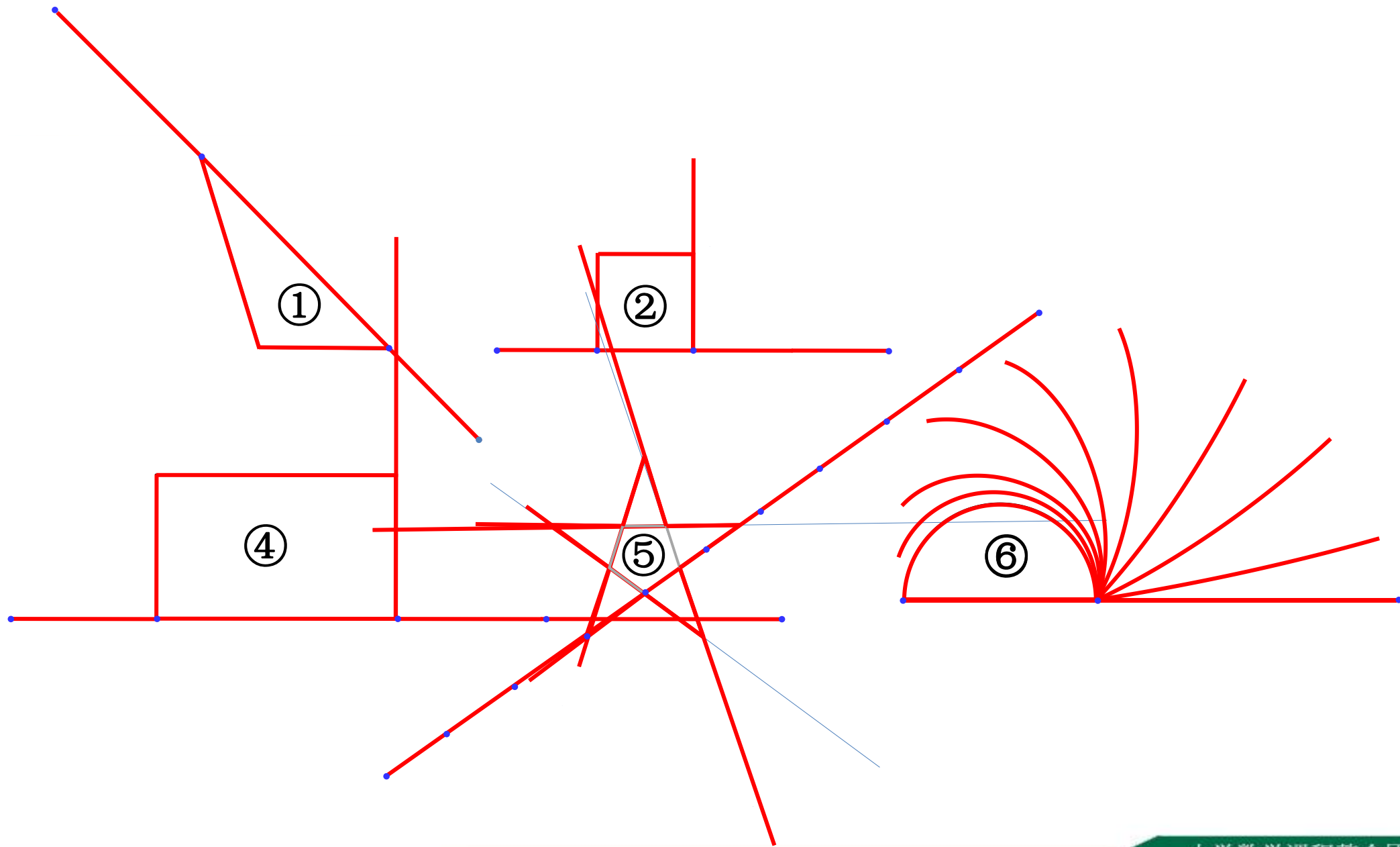


请描出下面图形的周长。

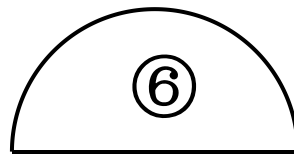



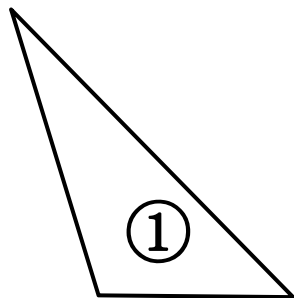


用一把直尺，你能量出它们的周长吗？试一试。






画一条线，你能把下面长方形分成**周长相等**的两部分吗？把直尺，你能量出它们的周长吗？试一试。



画一条线，你能把下面长方形分成**周长相等**的两部分吗？



通过学习，你有什么收获？



总策划：浙江省小学数学课程整合团队

画一条线，你能把下面长方形分成**周长相等**的两部分吗？



大小、形状一样



周长一样

大小、形状不一样



周长一样

试一试：把长方形分成**大小、形状不一样，周长一样**的两部分。

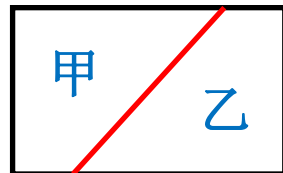
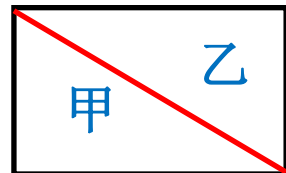
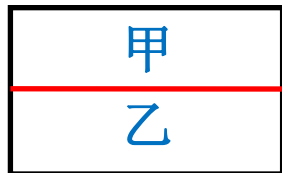
画一条线，你能把下面长方形分成**周长相等**的两部分吗？



大小、形状一样



周长一样



大小、形状不一样



周长一样

